



ÖRNEK 1

Bir manav elindeki limonları 5'er adet olacak şekilde filelere koyarak satıyor.

Tanesi 18 lira olan limonlardan 5 file alan bir kişi kaç lira öder?

- A) 90 B) 180 C) 270 D) 360 E) 450

ÖRNEK 2

Aşağıdaki tabloda 1 kg fındık ve 1 kg cevizin satış fiyatı verilmiştir.

	Fiyat (TL)
Fındık	50
Ceviz	80

Buna göre, 200 gram fındık ve 600 gram ceviz alan bir kişi kaç TL öder?

- A) 46 B) 50 C) 58 D) 68 E) 72

ÖRNEK 3

Emin, aklından bir sayı tutuyor ve bu sayıya sırasıyla aşağıdaki işlemleri uyguluyor.

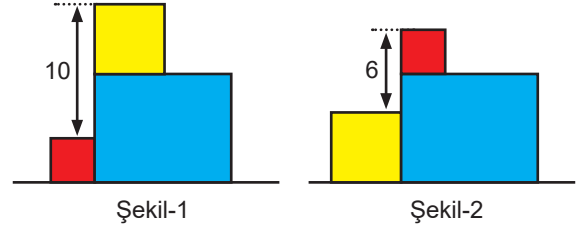
- Sayının yarısını alıyor.
- Sonra oluşan sayıyı 6 ekliyor.
- Daha sonra oluşan sayıyı 4 ile çarpınca 120 buluyor.

Buna göre, Emin'in aklından tuttuğu sayı kaçtır?

- A) 24 B) 30 C) 36 D) 48 E) 60

ÖRNEK 4

Aşağıda Şekil-1'de bir odanın zeminindeki kırmızı paket mavi paketin yanında, sarı paket ise mavi paketin üstünde bulunmaktadır. Şekil-2'de kırmızı ve sarı paketler yer değiştirmiş durumdadır.



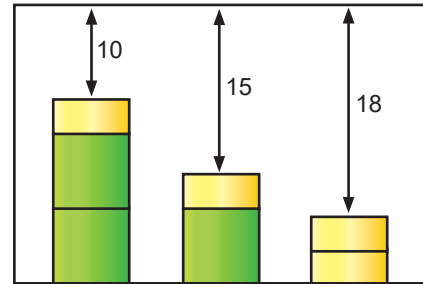
Kırmızı ve sarı paketlerin üst yüzeyleri arası uzaklıklar Şekil-1'de 10 cm ve Şekil-2'de 6 cm olduğuna göre, mavi paketin zeminden yüksekliği kaçtır?

- A) 6,5 B) 7 C) 8 D) 9 E) 9,5

Barış

ÖRNEK 5

Aşağıda bir odada bulunan özdeş yeşil ve özdeş sarı renkli kutular görülmektedir.



Bu odada 2 yeşil ve 1 sarı renkli kutu üst üste konulursa kutularla tavan arasında 10 metre, 1 sarı ve 1 yeşil renkli kutu üst üste konulursa kutularla tavan arasında 15 metre boşluk kalmaktadır.

Bu odada 2 sarı renkli kutu üst üste konulursa kutularla tavan arasında 18 metre boşluk kaldığına göre, odanın yüksekliği kaç metredir?

- A) 20 B) 21 C) 22 D) 24 E) 25



ÖRNEK 6

Bir kafede satılan meyve suları fiyatları aşağıdaki biçimdedir.

- Limonata 25 TL
- Portakal suyu 30 TL
- Nar suyu 50 TL

Pelin 500 TL parası ile arkadaşlarına 3 adet limonata 4 adet portakal suyu ve 5 adet nar suyu ısmarlıyor.

Buna göre, Pelin'in geriye kaç TL'si kalır?

- A) 45 B) 50 C) 55 D) 60 E) 65

ÖRNEK 7

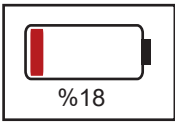
Bir kitapçada pazar günü satılan TYT kitabı sayısı AYT kitabı sayısının $\frac{2}{7}$ 'si kadardır.

Her iki kitaptan da bahsedilen pazar günü 819 adet satıldığına göre, satılan TYT kitabı sayısı kaçtır?

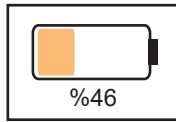
- A) 91 B) 182 C) 273 D) 364 E) 455

ÖRNEK 8

Elektrikli bir aracın şarj olma işleminin 4. dakikasında araç ekranında Şekil-1'deki durum, 18. dakikasında Şekil-2'deki durum görülmektedir.



Şekil-1



Şekil-2

Buna göre, araç şarj olmaya başladığı an pilinin doluluk oranı yüzde kaçtır?

- A) 6 B) 8 C) 9 D) 10 E) 12

ÖRNEK 9

Bir okul müdürü, pazartesi günü okulun bazı öğrencilerine, "Bu iletici alan her öğrenci ertesi gün iki öğrenciye göndersin." notu içeren bir elektronik posta gönderiyor. İletici alan öğrenciler bu notta yazılanı uyguluyor.

Aynı haftanın cuma günü sonunda bu ileti okuldaki tüm öğrencilere ulaşıyor ve her öğrenci bu ileticiyi yalnızca bir kez alıyor.

Okuldaki öğrenci sayısı 620 olduğuna göre, bu ileti başlangıçta kaç öğrenciye gönderilmiştir?

- A) 10 B) 12 C) 25 D) 16 E) 20

ÖRNEK 10

Engin, iş yerinde çalışan personel bilgilerini kaydetmek için ad, soyad ve doğum tarihi sütunları bulunan ve 100 satırdan oluşan bir tabloyu dolduracaktır.

Engin tabloyu doldurduğunda ad sütununda 18, soyad sütununda 20 ve doğum tarihi sütununda 24 satırda hata yapıyor. Hata yaptığı her personele ait bilgilerde yalnızca bir sütunu doğru olarak doldurduğu görülüyor.

Buna göre, Engin'in tüm bilgilerini doğru olarak kaydettiği personel sayısı kaçtır?

- A) 65 B) 67 C) 69 D) 71 E) 73

